

REpubLIK INDONESIA  
KEMENTERIAN HUKUM DAN HAK ASASI MANUSIA

# SURAT PENCATATAN CIPTAAN

Dalam rangka perlindungan ciptaan di bidang ilmu pengetahuan, seni dan sastra berdasarkan Undang-Undang Nomor 28 Tahun 2014 tentang Hak Cipta, dengan ini menerangkan:

Nomor dan tanggal permohonan : EC00202343786, 12 Juni 2023

## Pencipta

Nama : **Marshanda Shawma Kayniya, Nur Faiziyah dkk**  
Alamat : Desa Pringsari RT 01/RW 01, Kecamatan Pringapus, Kabupaten Semarang, Semarang, Jawa Tengah, 50553  
Kewarganegaraan : Indonesia

## Pemegang Hak Cipta

Nama : **Universitas Ngudi Waluyo**  
Alamat : Jl. Diponegoro No 186 Gedanganak, Ungaran Timur, Kab. Semarang, Semarang, Jawa Tengah, 50512  
Kewarganegaraan : Indonesia

Jenis Ciptaan : **Alat Peraga**  
Judul Ciptaan : **Pertalit (Permainan Ular Tangga Literasi)**  
Tanggal dan tempat diumumkan untuk pertama kali : 8 Juni 2023, di Ungaran  
di wilayah Indonesia atau di luar wilayah Indonesia  
Jangka waktu perlindungan : Berlaku selama 50 (lima puluh) tahun sejak Ciptaan tersebut pertama kali dilakukan Pengumuman.  
Nomor pencatatan : 000476714

adalah benar berdasarkan keterangan yang diberikan oleh Pemohon.  
Surat Pencatatan Hak Cipta atau produk Hak terkait ini sesuai dengan Pasal 72 Undang-Undang Nomor 28 Tahun 2014 tentang Hak Cipta.

a.n. MENTERI HUKUM DAN HAK ASASI MANUSIA  
Direktur Hak Cipta dan Desain Industri



Anggoro Dasananto  
NIP. 196412081991031002

## Disclaimer:

Dalam hal pemohon memberikan keterangan tidak sesuai dengan surat pernyataan, Menteri berwenang untuk mencabut surat pencatatan permohonan.

## LAMPIRAN PENCIPTA

No	Nama	Alamat
1	Marshanda Shawma Kayniya	Desa Pringsari RT 01/RW 01, Kecamatan Pringapus, Kabupaten Semarang
2	Nur Faiziyyah	Desa Pringsari RT 01/RW 01, Kecamatan Pringapus, Kabupaten Semarang
3	Lisa Virdinarti Putra	Jl. Gemahsari III/ 226A RT 005 RW 004 Kelurahan Kedungmundu Kecamatan Tembalang Kota Semarang



1. Papan Ular Tangga



2. Kartu Soal disetiap nomor

<p><b>31</b></p>  <p>Sebutkan hewan yang hidup di air</p> 	<p><b>32</b></p>  <p>Sebutkan tumbuhan yang dimanfaatkan untuk obat</p> 	<p><b>33</b></p>  <p>Bahan untuk membuat batu bata adalah</p> 	<p><b>34</b></p>  <p>Sebutkan contoh gotong royong yang ada di sekolah</p> 	<p><b>35</b></p>  <p>Sebutkan contoh kurukunan antar umat beragama</p> 
--	--	---	---	---

21



Bersatu kita teguh  
bercerai kita...



22



Berat sama di...  
ringan sama di...



23



Kalau melihat teman  
terjatuh kita harus



24



Selokan dibersihkan  
agar tidak terjadi?



25



Pohon yang ditanam  
dipinggir jalan untuk  
mengurangi...



26



Sebuah bangun  
memiliki sudut.  
Berapa sudut yang  
dimiliki bangun  
persegi?



27



Sebuah bangun  
memiliki sudut.  
Berapa sudut yang  
dimiliki bangun  
segitiga?



28



Banyak garis pada  
bangun persegi ada?



29



Bagaimana caramu  
menghormati orang  
tua?



30



Tugas utama siswa  
adalah...

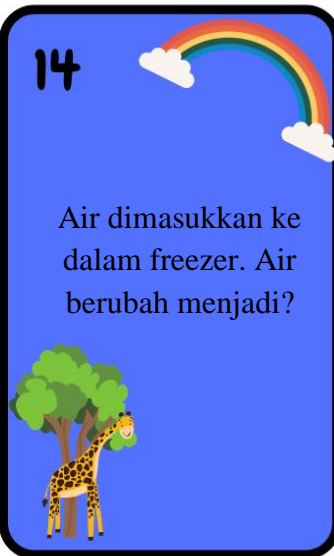




13



Wajah orang dalam  
manggunakan?



14



Air dimasukkan ke  
dalam freezer. Air  
berubah menjadi?



15



Sebutkan ciri-ciri  
benda padat



Sebutkan benda-  
benda yang dijadikan  
koleksi



18



Kakak mempunyai 4  
kotak pensil. Tiap  
kotak berisi 6 pensil.  
Berapa banyak  
pulpen keseluruhan?



19



$50m = \dots cm$




20



Kegiatan seperti  
gambar diatas  
adalah...



pangkal...



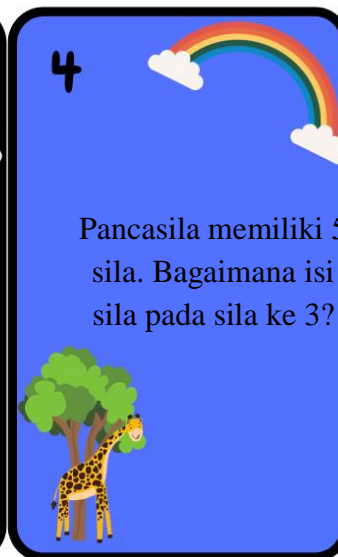
2

Indonesia memiliki dasar negara yaitu Pancasila. Pancasila memiliki berapa sila?



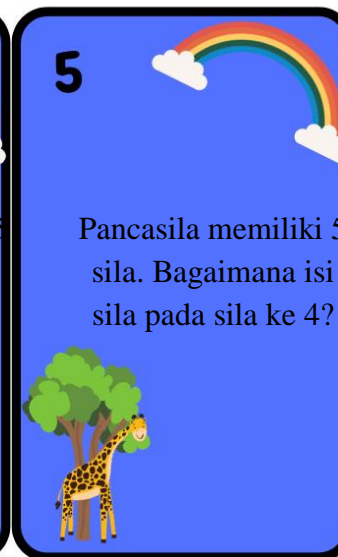
3

Indonesia memiliki dasar negara. Apa dasar negara Indonesia?




4

Pancasila memiliki 5 sila. Bagaimana isi sila pada sila ke 3?



5

Pancasila memiliki 5 sila. Bagaimana isi sila pada sila ke 4?



7

Lambang bilangan dari empat ratus tiga puluh sembilan adalah



8

Lambang bilangan dari enam ratus tujuh belas adalah



9



singkatan dari?



10

Ketika kita lahir kita akan dibuatkan surat



375 terdiri atas...ratusan...puluh an...satuan

Tubuh hewan diatas ditutupi oleh?

3. Dadu

